



HALF YEALY EXAMINATION REVISION QUESTION PAPER (2019-2020)

Grade: VI

Subject: French

Date:

Code:

Name:

Max. Marks: 40

Roll no. :

Time: 1 ½ Hrs.

General Instructions:

- *This question paper consists of 2 printed pages.*
- *All answers to be written in the answer sheet provided.*

SECTION A

I. Ma carte d'identité

5



Nom: _____

Prénom: _____

Âge: _____

Nationalité: _____

Classe: _____

Frères: _____

Sœurs: _____

Adresse: _____

Signature:

II. Présentez-vous

3

III. Ecrivez un mot en utilisant les lettres données

2

a. M _____	f. S _____
b. B _____	g. U _____
c. F _____	h. V _____
d. N _____	i. W _____
e. P _____	j. Z _____

IV. Ecrivez une conversation entre deux personnes qui rencontrent pour le premier fois

5

SECTION B

V. Lisez le texte et répondez aux questions:

2 ½

C'est mon mariage

Paris, 27 juin

Chere Manuel,

Mon mariage est le 15 juillet. Pour cette occasion j'organise un boum dans ma maison a 17h. Est-ce que tu peux venir ?

Voici mon numero du telephone : 09.10.23.12.07

A bientôt. Je t'attends !

1. Qui écrit cette carte ?

2. Ce document est amical ou formel ?

3. A qui est écrit cette carte?

4. Quand est le mariage ?

5. Numéro du téléphone de Gabriel est _____

VI. Lisez le texte ci-dessous et répondez aux questions:

2 ½

Mac habite dans une maison à Lyon en France. Jacob habite dans une ferme près de Nice en France. Harry habite dans une grande ville au centre de Paris.

1. Qui habite dans une grande ville?

2. Qui habite au centre de Paris?

3. Qui habite à Lyon?

4. Qui habite dans une ferme?

5. Où habite -t-il, Harry?



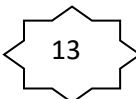

SECTION C

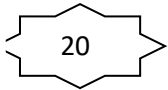
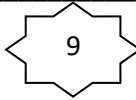
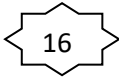

VII. Écrivez cinq couleurs

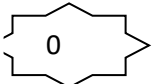
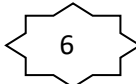
2 ½

VIII. Écrivez des chiffres

2 ½

a.  b.  c.  d. 

e.  f.  g.  h. 

i.  j. 

IX. Calculez et écrivez les nombres :

2 ½

a. 5 + 6 = _____

b. 9 x 1 = _____

c. 6 - 5 = _____

e. $10 \div 2 =$

f. $4 \times 5 =$

g. $11 + 8 =$

h. $15 \div 3 =$


i. $7 + 7 =$

j. $16 \div 4 =$

k. $18 + 1 =$

X. Comptez les objets

2 1/2



a. _____ carottes

b. _____ stylos

c. _____ règles



d. _____ crayons



e. _____ voitures

SECTION D

XI. Identifiez les endroits dans la carte de France.

3



XII. Répondez des questions suivante.

4

1. Nommez deux fromages français: a. _____ b. _____
2. Nommez un pain français: a. _____
3. _____ est la capitale de France.
4. Nommez les couleurs du drapeau français:
a. _____ b. _____ c. _____

XIII.

Découvrez les images.

3



a. _____



b. _____



c. _____



d. _____



e. _____



f. _____